

Va sur le site : www.habitation-sucrerie.fr



Clique à gauche sur le dossier « Visite virtuelle ». Lis les informations qui te sont présentées. Puis réponds à la première question...et ensuite débutes ta visite.

1. Où est située cette habitation ?

.....

Tout au long de ton parcours tu vas devoir te repérer sur plusieurs plans et images ; tu vas devoir passer de l'image satellite, au plan au sol, au croquis et à la visite virtuelle, à toi de bien savoir te situer. Promène-toi dans l'habitation et une fois que tu as fait le tour reviens à ces deux documents pour les compléter.



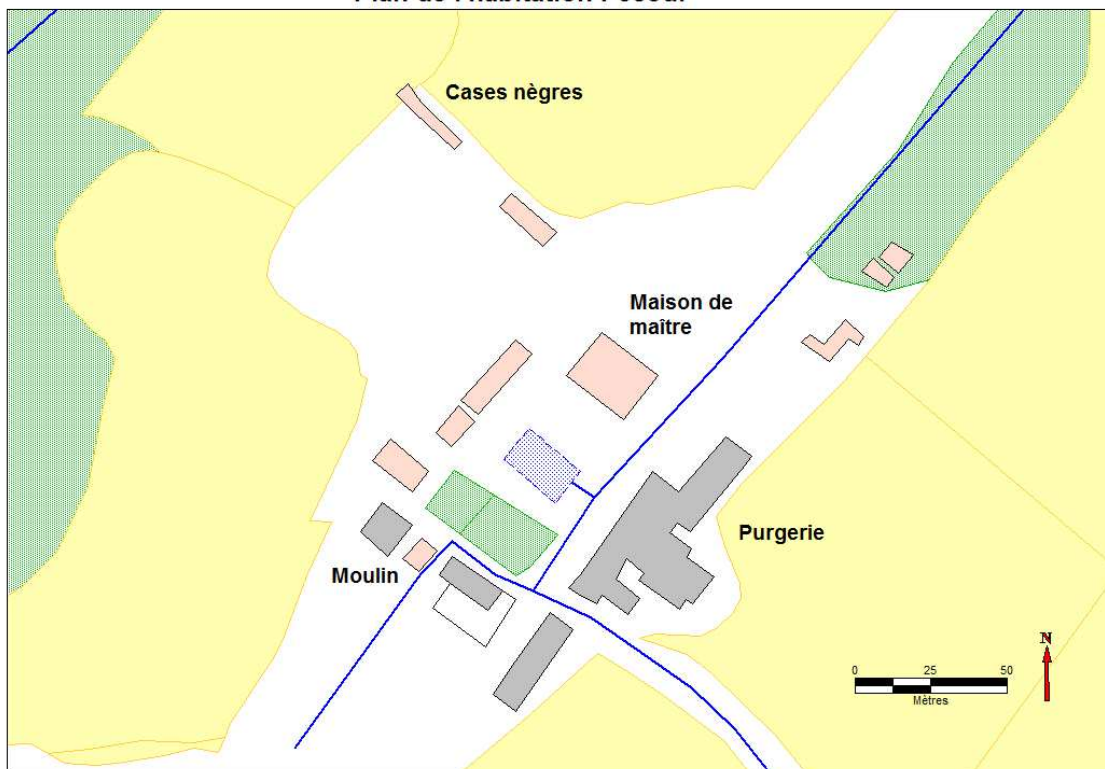
Photo aérienne de l'habitation Pécoul (1cm : 25m)

Repère sur la photo satellite et le plan les éléments suivants :

- Allée monumentale (en vert)
- Maison du Maître (en
- Roue hydraulique
- Canal
- Purgerie
- Bassin
- Cases nègres
- Maison du gérant

Puis trace en noir le chemin que suit la visite virtuelle que tu as faite sur la photo et le plan.

Plan de l'habitation Pécoul





Pour commencer la visite, clique sur l'image de la maison de maître de l'habitation en dessous du texte.

Tu es maintenant à l'entrée de l'habitation. Tu vas suivre un chemin au travers de l'habitation. Des indices sont déposés un peu partout pour t'aider à comprendre comment fonctionnait une habitation mais aussi pour répondre aux questions : sois attentif et curieux. Les zones qui s'activent quand tu passes la souris signifie que tu peux y faire quelque chose : soit cliques dessus pour obtenir des informations, soit passer à la suite de la visite. Il s'agit d'hyperpaysages c'est-à-dire que tu peux voyager à 360° dans l'image : pour cela appuie sur le clic gauche de ta souris et tout en maintenant appuyé deplace là vers la droite ou la gauche.

2. A quelle distance de la mer est-on ?

.....

3. Dans quel axe est orientée l'habitation ?

.....

4. On ne voit presque pas les bâtiments agricoles et industriels : pourquoi ? Quelle impression veut-on donner ?

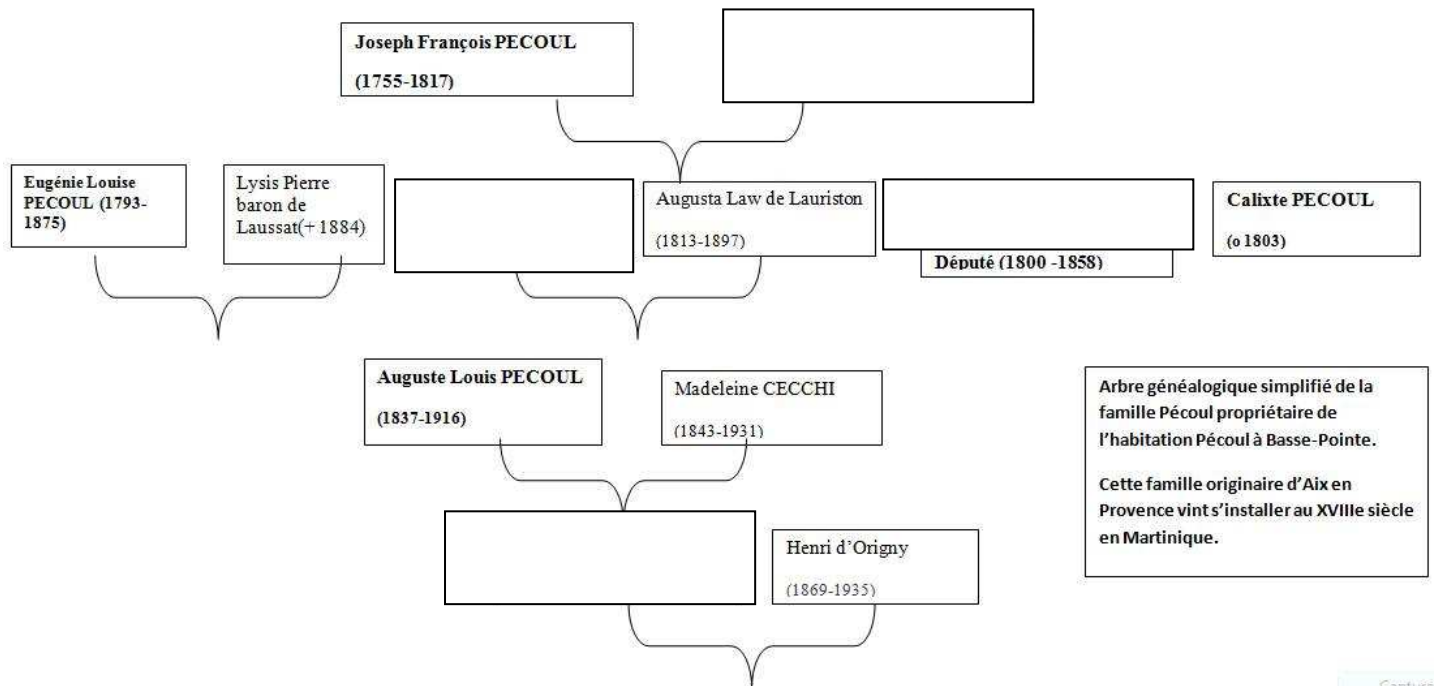
.....

.....



Clique sur la maison de maître pour y entrer. Tu es maintenant dans l'entrée, une série de portrait va te permettre d'en savoir un peu plus sur les anciens propriétaires de l'habitation.

5. Complète l'arbre généalogique de la famille Pécoul grâce aux tableaux de l'entrée :



6. Qui fit réaliser les aménagements extérieurs : bassin, jardin etc. ?

.....



Passe dans la salle à manger.



7. a : A qui appartiennent ces armes ?

.....

7. b : D'où vient cette famille ?

.....



Clique sur « Venez dans le parc »

8. Quels sont les bâtiments sur la droite du plan d'eau ?

.....

9. Le plan d'eau a-t-il toujours été ainsi ?

.....



Regarde la maison en face et sur la gauche clique sur « Vers le jardin et les cases nègres » puis sur « les cases nègres »

10. Comment étaient construites les premières cases nègres (matériaux, inspiration) ?

.....

11. Comment s'organisent-elles maintenant ?

.....



Clique sur « retour au parc » puis sur « moulin à eau ».

12. A quoi servait le moulin ?

.....

13. Quels autres types de moulins pouvaient servir à la même opération ?

.....



Clique sur « vers le haut du canal »

14. Comment l'eau arrive-t-elle là ?

.....



Clique sur « retour au parc » puis sur « les ruines de la sucrerie »

15. Que faisait-on précisément dans la sucrerie ?



Clique sur « retour au parc », clique sur « la purgerie » n'oublie pas de compléter le plan et la photo satellite !

16. Qu'est-ce qu'une vinaigrerie ?

17. Avec quoi chauffait-on les alambics à distillation de la vinaigrerie ?

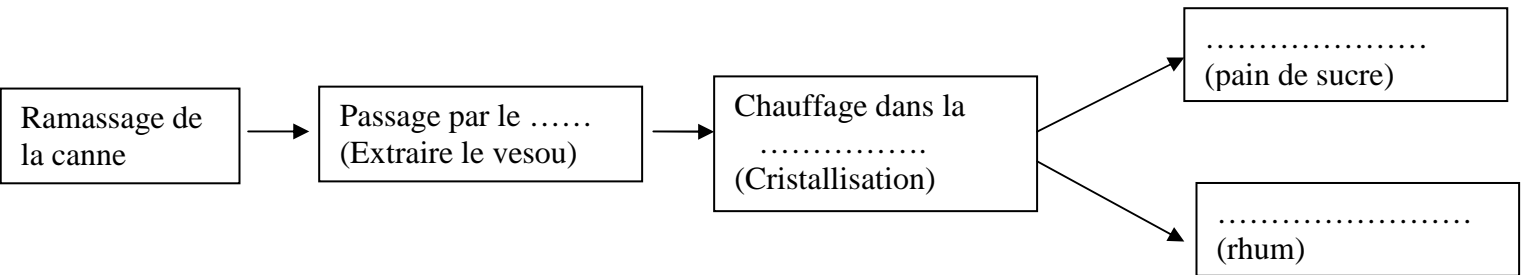


Clique sur « Entrez dans la purgerie »

18. Quelle opération se déroulait dans cette pièce ?

19. Sous quelle forme étaient réalisés les pains de sucre ?

20. Maintenant tu connais les différentes étapes de la fabrication du sucre, complète le schéma suivant :



Ferme la visite virtuelle et clique sur « plan interactif » sur le menu de gauche. Tu vas pouvoir vérifier tes réponses et découvrir d'autres informations à propos des habitations.

21. Comment s'organise la culture de la canne ?

22. Quelles sont les autres cultures qui peuvent être présentes sur une habitation ?

23. Qu'est-ce que les « jardins à nègres » ?

Vérifie que tu as bien complété le plan et la photo du début (page 1) !